



<http://maths-sciences.fr>

ÉNIGMES SIMPLES





<http://maths-sciences.fr>


Le sphinx

Quel est l'animal qui marche sur 4 pattes à l'aube, 2 pattes durant le jour, et 3 pattes le soir ?




L'œuf

Un jour, un canard vint à pondre un œuf sur le mur entre le jardin de Paul et celui de Pierre. Paul et Pierre ne savent pas à qui va appartenir cet œuf. Pourrez-vous les aider?



Le livre

Pourquoi ne pouvez-vous pas glisser une carte entre les pages 103 et 104 d'un livre ?



Qui est le plus lourd ?

Qu'est-ce qui plus lourd un kilo de plomb ou un kilo de plume?



Le chasseur et le moineau

Dix moineaux sur une branche. Le chasseur en tue un. Combien en reste-il sur la branche?






<http://maths-sciences.fr>

La chèvre, le chou et le loup

Un berger doit faire passer individuellement (pour cause de manque de place sur la barque) de l'autre côté de la rivière une chèvre, un chou et un loup. En l'absence du berger, la chèvre mange le chou, et le loup mange la chèvre. Comment doit s'y prendre le berger ?



La course cycliste

Vous participez à une course cycliste. A un moment donné vous doublez le deuxième. Vous devenez... ???



L'alternance des six verres

Etant donné la situation suivante :



Comment faire alterner verres pleins et verres vides en ne touchant qu'à un seul verre ?

Les fils de la mère à Toto

La mère de Toto a trois enfants : Pim, Pam et ... Comment s'appelle le troisième enfant ?

